



تکالیف اختیاری عیدانه

سال ۱۳۹۹

کلاس چهارمی های

دبستان پسرانه امام رضا [ع]

توجه: انجام تکالیف عیدانه کاملا اختیاری است.

در صورت حل این عیدانه امتیاز و جایزه
به دانش آموز اهدا می شود.



به سال نو مبارک

نام:

نام خانوادگی:

نام معلم:

کلاس:





کرونا ویروس چیست؟

لطفا ما را کووید-۱۹ یا ویروس کروناى جدید صدا کنید

راستش ما آنقدر ریز هستيم که با چشم غير مسلح دیده نمیشويم. البته میکروسکوپ الکترونی ما را به خوبی نشان میدهد. نگاه کنید، کلی برآمدگی شبیه تاج روی سطح ما وجود دارد.

ما خیلی خطرناکيم. از ما میترسید؟ بله واقعا باید بترسید اگر بهداشت و نکات ایمنی را رعایت نکنید

ما در بدن حیوانات وحشی زندگی خوب و خوشی داشتيم.

ما از راه چشم، بینی و دهان به بدن انسانها وارد میشويم و به سلولهای سالم حمله میکنيم. بهترین محل برای سکونت ما دستگاه تنفسی است.

کارهای بد ما باعث میشود آدمها ذاتالریه بگیرند و دچار سرفه، تب، سردرد، ضعف، اسهال و تنگی نفس بشوند. حتی بدتر از همه ی اینها ممکن است باعث شویم آدمها بمیرند. باور نمیکنید؟ پس خوب گوش کنید... ما چیزهای مختلفی را آلوده می کنیم مثل تلفن، موبایل، دسته کلیدها و خیلی چیزهای دیگر... ما حتی میتوانیم توی هوا معلق باشیم و روی سطح ها فرود بیایم. ما در فضاهای بسته مثل اتاق یا در جاهایی مثل اتوبوس، مترو، هواپیما و... که حساسی شلوغاند، آسانتر پخش میشويم. ما میتوانیم هر جا که بخواهیم پنهان شویم؛ توی دهان، بینی و چشمهای شما و از یک بدن به بدن دیگر برویم. ما خیلی بدجنس و خطرناک هستيم. میتوانیم آدمهای زیادی را همزمان مریض کنیم.

اما راستش ما هم از خیلی چیزها میترسيم؛ مثل دانشمندا، پزشکها و پرستارهایی که خودشان را برای مبارزه با ما آماده کردهاند... یا آدمهایی که ماسک میزنند تا از گسترش ما جلوگیری کنند...

البته بیشتر از این میترسيم که مردم دستهایشان را مدام میشویند و ما از روی دستهایشان پاک میشويم. تازه، آدمها از الکل و ضدعفونی کننده ها هم استفاده میکنند که باعث میشود ما نابود شویم.

ما نگرانيم مردم با خوردن غذای مناسب و خواب کافی قوی و سالم بمانند.

دوست من حالا پاسخ این پرسش را میدانی؟

برای اینکه از ویروس کرونا در امان بمانیم چه کارهایی باید بکنیم؟



شادمان هر جا وزان شد
در دل صحرا روان شد
مژده می‌آرد پرستو
گاه این سو، گاه آن سو
شاپرک بر چهره گل
می‌رسد آواز بلبل
رفته فصل سخت سرما
هدیه‌های تو خدا

«بیوک میرزایی»

باز باد بهاری
چشمه ای جوشان برآمد
از بهار سبز و خرم
شادمان پر می‌گشاید
می‌کشد دست نوازش
از سر شاخ درختان
آمده فصل بهاران
وہ! چه خوب است و زیبا

نوگل بهاری، حالا که این شعر رو خواندی به سوالهای زیر جواب بده!

این شعر چند بیت و چند مصرع دارد؟



به چند تا از هدیه‌های خدا در این شعر اشاره شده است؟



کلمات مخالف در شعر را بنویس!



اگر روزی آب قهر کند و دیگر آب نداشته باشیم، چه باید کرد؟

بدون شک، دیگر کاری از دست کسی بر نخواهد آمد؛ چون حیات تمام موجودات زنده به آب وابسته است. ما می‌توانیم با صرفه جویی یعنی مصرف درست و به اندازه، شکر نعمت‌های خداوند را به جای آوریم. علاوه بر مصرف آب، در مصرف نعمت‌های دیگر خداوند نیز دقت کنیم و درست مصرف کنیم و به فکر نسل‌های آینده هم باشیم و این سرمایه‌های ملی را برای آیندگان نیز حفظ کنیم.

معنی یک آیه درباره آب:

سوره: آیه:



آیه الكرسي آیات ۲۵۵ تا ۲۵۷ سوره بقره را شامل می‌شود به عنوان سید آیات معروف است. بنا به روایات خواندن آیه بعد از نماز موجب قبولی آن می‌شود. اگر موقع خواب خوانده شود باعث سلامتی فرد تا صبح می‌شود. اگر در مسافرت خوانده شود باعث سلامتی مسافر تا رسیدن به مقصد می‌گردد.



هر يك از عبارتهای قرآنی زیر چه طور خوانده میشوند در مقابل آن بنویس.

یس

المر

المعص

م

طه

عسق

تعداد سوره ها

بلندترین سوره

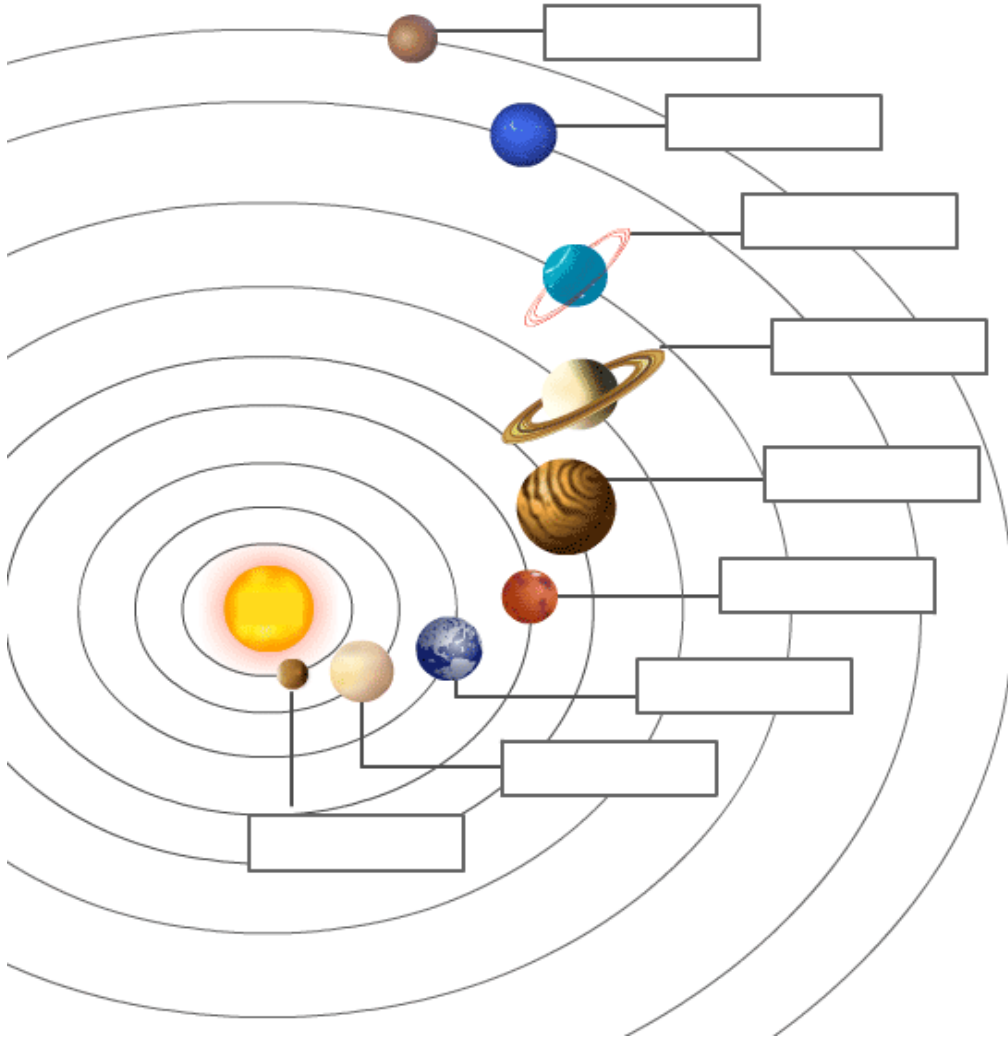
کوتاه ترین سوره






اگر زمین در زمستان به خورشید نزدیک تر است، چرا هوای زمستان سردتر است؟

نام هر سیاره را کنار آن
یادداشت کن.

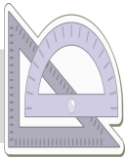
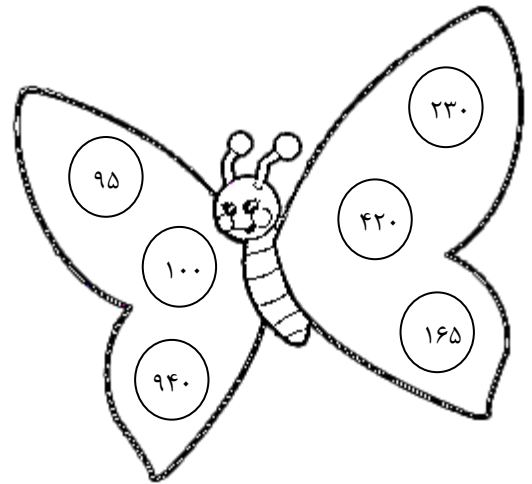
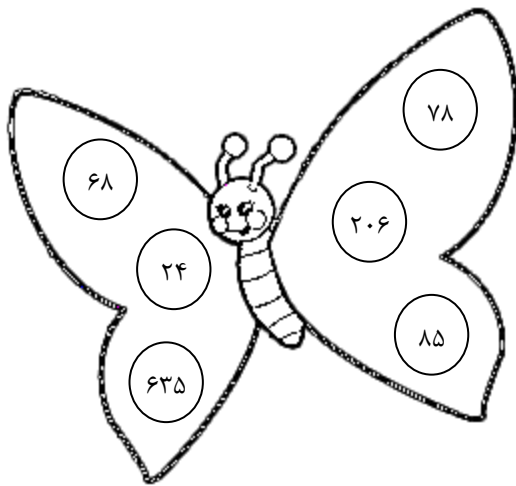


دانش آموزان کلاس چهارم بعد از تعطیلات نوروز نمونه‌های مختلفی از سنگ‌ها را جمع آوری کرده و به کلاس آوردند. بعضی از این سنگ‌ها لایه لایه بودند، بعضی دیگر، دارای فسیل بودند. به نظر شما این نمونه‌های سنگی مربوط به کدام گروه از سنگ بوده؟



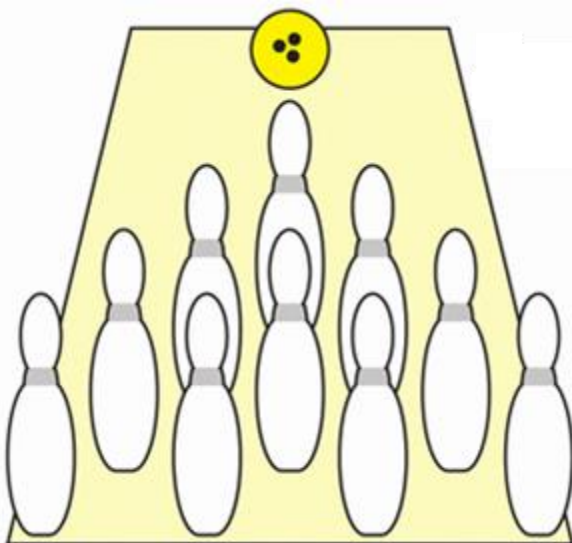


در بین اعداد روی بال پروانه‌ها اعداد بخش پذیر بر ۲ را زرد و اعداد بخش پذیر بر ۵ را آبی کن.



با تحقیق و جست و جو جدول را کامل کن.

تعداد قطرها	تعداد خط تقارن	مساحت	محیط	نام شکل
				مربع
				مستطیل



❑ اگر در ضربه‌ی اول نصف میله‌ها بیفتند، آنها را با مداد قرمز رنگ کنید.

❑ در ضربه‌ی دوم، $\frac{2}{5}$ میله‌های باقیمانده می‌افتند. آنها را با مداد آبی رنگ بزنید.

❑ در ضربه‌ی سوم، $\frac{1}{3}$ میله‌های باقیمانده می‌افتند. آنها را با مداد سبز رنگ بزنید.

❑ در پایان چند میله باقی می‌ماند؟

ضرب المثل‌ها، بخشی از فرهنگ مردم است که سینه به سینه و از نسلی به نسل دیگر، انتقال یافته و به ما رسیده است. هر چه تعداد ضرب المثل در زبان یک ملت بیشتر باشد، نشانه‌ی خردمندی، حکمت و ذوق مردم آن کشور است. ضرب المثل‌ها نتیجه‌ی تجربه انسان‌ها است. دلیل به وجود آمدن ضرب‌المثل‌ها متفاوت است. آشنایی با ضرب المثل‌ها به انسان کمک می‌کند به جای استفاده از جملات طولانی و خسته کننده، با بیان ضرب المثل مقصود خود را به شنونده منتقل کند.

در دامنه دو کوه بلند، دو آبادی بود، «بالا کوه» و «پایین کوه». از میانه آن دو کوه چشمه‌ای روان بود که به هر دو آبادی می‌رفت و زمین‌های آن‌ها را سیراب می‌کرد. این ماجرا ادامه داشت تا اینکه ارباب ده «بالا کوه» تصمیم می‌گیرد، برای به دست آوردن زمین‌های ده پایین و البته سلطه به مردم آن، راه چشمه را به پایین کوه ببندد. با این اتفاق زمین‌های ده پایین کم کم خشک شدند و مردم به نشانه اعتراض همراه با کدخدا به ده «بالا کوه» رفتند؛ اما ارباب آن ده در جواب این اعتراض‌ها گفت یا رعیت او شوند یا تا ابد بی آب خواهند ماند و گفت: بالا کوه مثل ارباب است و پایین کوه مثل رعیت. این دو کوه هرگز به هم نمی‌رسند. من ارباب هستم و شما رعیت! مردم ده پایین از این پیشنهاد و این حرف ناراحت شدند، چند روزی گذشت تا اینکه تصمیمی گرفتند. به پیشنهاد کدخدای ده، بیل و کلنگ را برداشتند و زمین را کندند و قنات حفر کردند. با این کار آب چشمه دوباره به زمین‌های آن‌ها راه پیدا کرد و کم کم چشمه بالا کوه خشک شد. خبر به ارباب بالا کوه رسید. چاره‌ای جز تسلیم ندید. به ده پایین رفت و گفت: شما با این کار چشمه ما را خشک کردید. اگر می‌توانید سر یکی از قنات‌ها را به طرف ده ما برگرداند. این داستان شما را یاد کدام ضرب المثل می‌اندازد؟



با توجه به نقشه به سوالات زیر پاسخ بده.



الف) راهنمای نقشه را کامل کن.

ب) بهاره در بیمارستان کار می‌کند، او برای پست نامه‌ای که در خانه‌شان مانده باید به ترتیب در چه جهت‌های جغرافیایی حرکت کند؟

.....

ج) هر کدام از موارد زیر در چه جهت جغرافیایی قرار دارد؟

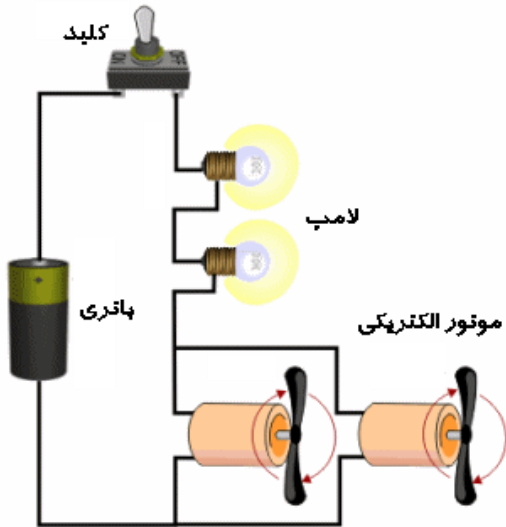
	بیمارستان		خیابان پارک
	راه آهن		خیابان پست

د) هر کدام از حرف‌های زیر در نقشه نشانه چیست؟

S N E W

در یکی از لیوان‌ها مخلوط شکر و آب و در دیگری مخلوط نشاسته و آب داریم. چگونه بدون مزه کردن می‌توان فهمید که کدام یک مخلوط و کدام یک محلول است؟

با توجه به مدار به سوالات پاسخ بده.




الف) لامپ‌ها در این مدار موازی یا متوالی هستند؟

ب) موتورهای الکتریکی موازی یا متوالی هستند؟

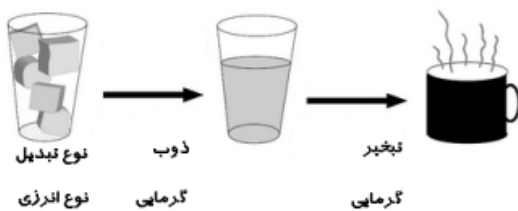
ج) مجموعه‌ی لامپ‌ها با مجموعه‌ی موتورها موازی یا متوالی هستند؟

د) اگر کلید قطع شود کدام وسایل خاموش می‌شوند؟

نوع انرژی هر یک از تصویرهای زیر را بنویس!



با توجه به شکل زیر:



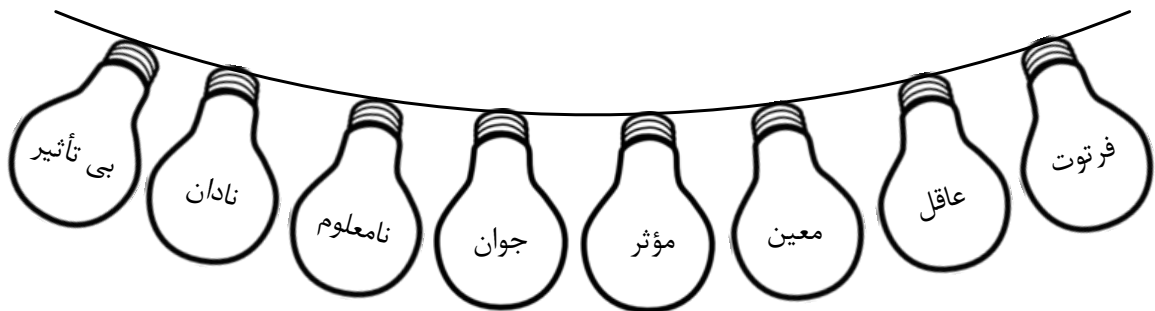
الف) چه تبدیل حالت‌هایی از ماده انجام شده است؟

ب) در هر مرحله از چه نوع انرژی استفاده می‌شود؟

هر يك از آثار يا تصاوير زير مربوط به کدام يك از شاعران ايران است؟



لامپهای مخالف هم را يك رنگ بزن!



هم معنی کلمات زیر را در جدول پیدا کن و روبه روی کلمات بنویس. مانند نمونه.

ابداع:
مقصود:
خویش:
خشنود:
پیوسته:
حرفه:
ویژه:

ش	ه	ر	ا	و	م	هـ	د	ن
غ	ف	ش	س	ذ	ت	ر	ر	ا
ل	خ	ی	ی	ا	ن	ا	و	ت
ظ	و	ط	غ	ت	ع	ض	ش	و
ی	د	ی	ا	و	گ	ی	ب	ا
ذ	ر	ا	ی	ر	و	آ	و	ن
و	ط	ت	ر	م	ش	ل	ل	س
ق	ظ	ص	ف	د	ه	گ	ی	ق
ر	ک	ف	ص	و	ص	خ	م	ف

اندیشه: فکر
طاق:
طبع:
قریحه:
کنج:
عاجز:
استعداد:

چه کارهایی سبب آزار دیگران می‌شود؟



تصویر مناسب با رفتار مناسب را رنگ کن!











پیامبر در این مورد فرمودند:



جاهای خالی را در شکل زیر کامل کن!



- امام حسین (ع)  محل تولد:  محل مرقد: 
- امام موسی کاظم (ع)  محل تولد:  محل مرقد: 
- امام محمد تقی (ع)  محل تولد:  محل مرقد: 

با خانواده تصمیم گرفتیم که چند روز دیگه به مسافرت بریم. بعد از کلی صحبت درباره مکان مسافرت نوبت به انتخاب وسیله رسید. پدرم پیشنهاد داد با ماشین خودمان بریم، مادر دوست داشت با هواپیما بریم و ما بچه‌ها هم قطار را ترجیح دادیم.



هر کس دلایل خود را برای انتخاب وسیله می‌گفت:




خدماتی یا تولیدی بودن هر شغل را مشخص کن!



تحقیق و جست و جو کن و جدول زیر را کامل کن.

نام استان	آثار باستانی	سوغات	خوراک مخصوص	نام قدیمی
اصفهان				
همدان				
کرمانشاه				
یزد				

با توجه به شکل:



محیط مربعی به ضلع ۲۵ سانتیمتر چقدر است؟

مساحت آن چقدر است؟

چند کاشی به ابعاد ۵×۵ سانتیمتر را می‌توان در داخل این مربع چید؟

برای هر یک از عبارات های زیر یک کسر بنویسید و ساده کنید؟

$$\frac{\text{طول مربع}}{\text{محیط مربع}} = \frac{\text{محیط مربع}}{\text{مساحت مربع}} = \frac{\text{مساحت مربع}}{\text{طول مربع}}$$

با پاسخ دادن به پرسش‌های هر حلقه، به ورزشکار کمک کنید تا آتشدان المپیک را روشن کند.

خوب است بدانیم!

ایران برای اولین بار در سال ۱۹۴۸ م با ۳۸ ورزشکار در بازی‌های المپیک شرکت کرد و اولین مدال المپیک را آقای جعفر سلماسی در رشته‌ی وزنه برداری برای ایران به ارمغان آورد.

تاکنون ورزشکاران ایرانی ۱۵ بار در بازی‌های المپیک شرکت کرده‌اند و ۶۰ مدال به دست آورده‌اند.

لباس مخصوص کشتی گیران چه نام دارد؟

حرکت پشت سر هم ورزشکاران در افتتاحیه المپیک

اولین بازی المپیک از چه کشوری آغاز شد؟


فاصله‌ی بین بازی‌های المپیک چند سال است؟

المپیک ۲۰۱۶ در چه کشوری برگزار خواهد شد؟

نام هر يك از ورزش‌های زیر را بنویسید.



جهت نیروهایی که دو آهن ربا به هم وارد می‌کنند در سایر شکل‌ها را رسم کن.




با داشتن يك آهن ربا چگونه می‌توان جهت‌های شمال و جنوب منطقه را مشخص کرد؟

.....

.....


.....



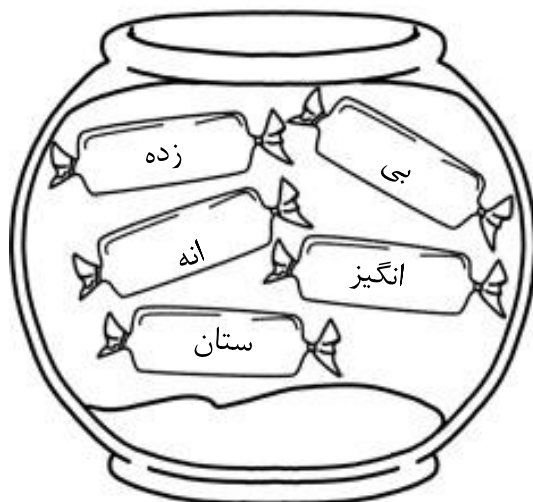
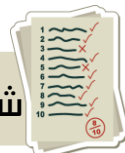
من یه قطره خونم!

زندگی شما وابسته به من و دوستانم است، وقتی چایی تون زخم پشه من پیرون میام! کار من رساندن اکسیژن به بدن شماست...

⊕ آیا تا به حال به این موضوع فکر کرده‌اید که ما چگونه در تمام قسمت‌های بدن هستیم؟
⊕ در مورد فعالیت‌هایی که ما در بدنت انجام می‌دهیم اطلاعات داری؟ برام بنویس!

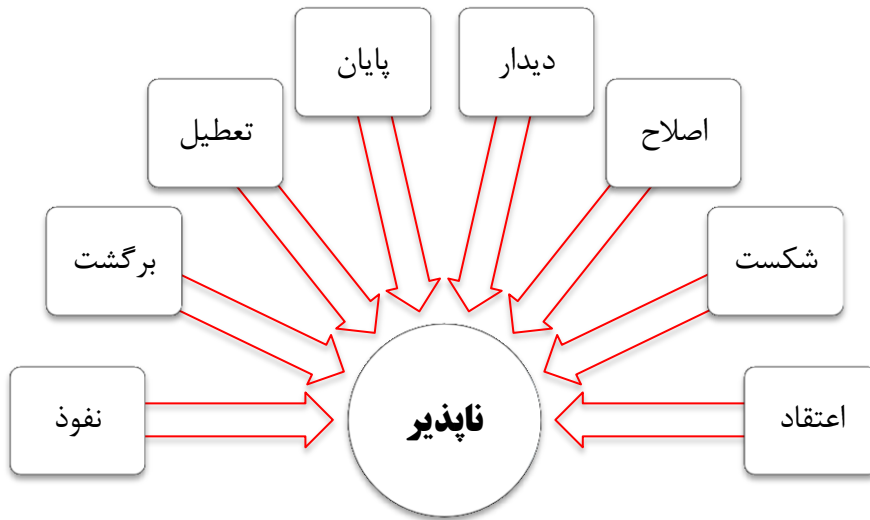


شکلات‌های ظرف سمت راست و چپ را با هم ترکیب کن و کلمات غیر ساده بساز.





فلش کلمه‌ای که پس از ترکیب شدن با «ناپذیر» کلمه‌ی غیر ساده معنی دار می‌سازد را رنگ بزن.



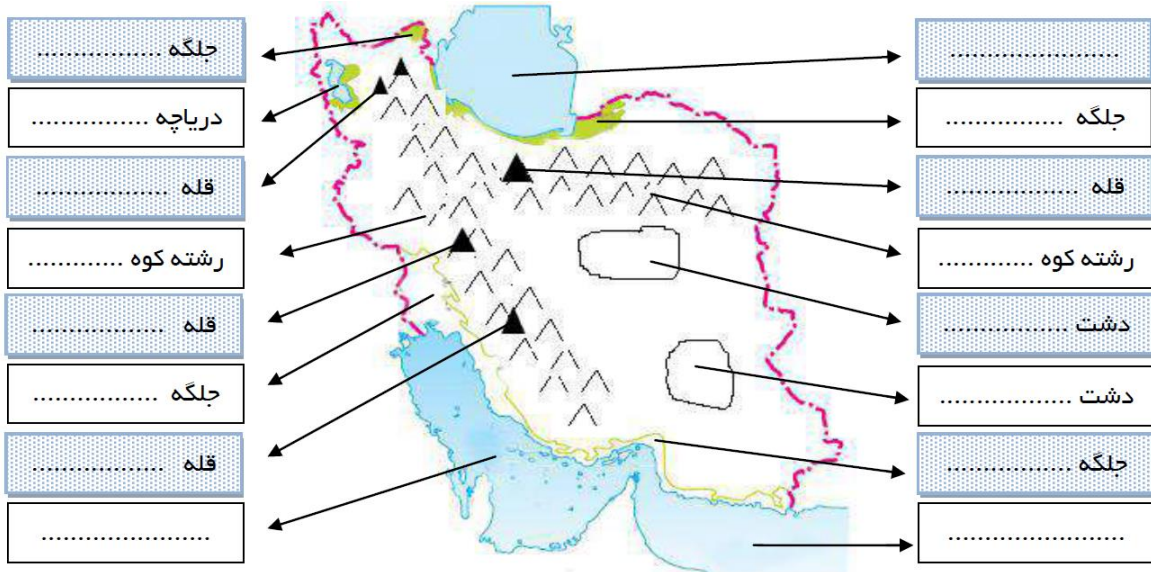
کلمات زیر را دسته بندی کن!

- | | | | | | | | | | | | |
|-----|-------|--------|------|------|-------|-------|-----------|------|-----|------|------|
| آمد | خندان | پیچیده | شادی | قشنگ | شکوفه | روستا | نغمه خوان | سبزه | دشت | رسید | بهار |
|-----|-------|--------|------|------|-------|-------|-----------|------|-----|------|------|

	اسم
	فعل
	صفت




با توجه به نقشه ایران، نام قسمت‌های خواسته شده را بنویس.



جدول زیر را کامل کن.

خلیج فارس و دریای عمان		
نام دو بندر نفتی	نام دو بندر بازرگانی	نام دو جزیره
..... (۱) (۱) (۱)
..... (۲) (۲) (۲)

سرگرمی





داستان زیر را با دقت بخوان و سپس به پرسش‌ها پاسخ بده.

مردی عزم سفر کرد، صد سکه داشت، سکه‌ها را برداشت و به خلیفه داد که برایش نگاه دارد و گفت: «این پول مرا پهلوی خودت بگذار بماند تا من برگردم.»

خلیفه قبول کرد و پول‌ها را گرفت. یک سال گذشت و صاحب پول از سفر برگشت و به نزد خلیفه رفت، گفت: ای خلیفه من بازگشتم، پولم را پس بده!

خلیفه پاسخ داد: «عزیزم، پولت را موش‌ها خوردند.»

- چه طور چنین چیزی می‌شود؟ چرا پول تو را نخوردند و فقط پول مرا خوردند؟

خلیفه عصبانی و خشمگین شد و بیچاره را از قصر بیرون کرده و گفت: «برو گم شو، اصلاً پولی به من نداده‌ای!»

مردم به این مرد فریب خورده گفتند که: «برو پیش بهلول و داستان را برایش بگو، حتماً کمکت خواهد کرد.»

علو (نام آن فرد فقیر علو بود) به نزد بهلول رفت و داستان را برایش نقل کرد.

بهلول گفت: «برو در خانه‌ات راحت و آسوده بنشین و نگران نباش، من خودم پول‌های طلایت را برایت می‌آورم.»

بهلول نزد خلیفه رفت و گفت: «ای خلیفه، امروز من همهٔ کودکان شهر را به گردش می‌برم، تو هم به فرزندان خود اجازه بده که با من بیایند.»

خلیفه اجازه داد و گفت: «بفرما، هر سه پسر مرا ببر!»

غروب روز بعد همهٔ بچه‌ها از گردش برگشتند و بهلول هر کودکی را به خانه خودش برد و به والدینش تحویل داد و بچه‌های خلیفه را در اتاق خود زندانی کرد. در به روی آنان بست.

شب خلیفه به نزد بهلول آمده پرسید: «بچه‌هایم کجا هستند؟»

- بچه‌هایت را خرگوش‌ها خوردند؟

خلیفه تعجب کرد و پرسید: «چه طور شد بچه‌های دیگران را نخوردند و فرزندان مرا خوردند؟»

بهلول گفت: «چطور ندارد، همان طور که موش‌ها پول علو را خوردند و به پول تو کار نداشتند، همین الان برو و پول علو را پس بده تا من بچه‌هایت را تحویل بدهم» و با این حيله علو به پول خود رسید

معنی عبارت‌های زیر را بنویس.

.....	پهلوی خودت	نقل کرد	عزم سفر
-------	------------	-------	---------	-------	---------

به نظر شما بهلول چه درسی به خلیفه داد.

- | | | | |
|-----|-----------|---|------------|
| الف | راستگویی | ب | مهربانی |
| ج | مردم داری | د | امانت داری |

مفهوم داستان با کدام ضرب المثل ارتباط معنایی دارد.

- | | | | |
|-----|------------------------------------|---|----------------------------------|
| الف | گهی زین به پشت گهی پشت به زین | ب | زبان سرخ سر سبز می‌دهد به باد |
| ج | کوه به کوه نمیرسه آدم به آدم میرسه | د | امانت خود را هرگز به روباه نسپار |

یک آیه از کتاب هدیه‌های آسمان در رابطه با امانت‌داری به همراه معنی آن بنویس.



چند کلمه جمع در متن پیدا کن.

.....

.....

.....

.....

.....


اگر به امانت دیگران ضرر برسانیم باید چه کار کنیم؟

.....

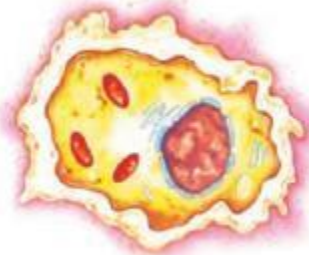
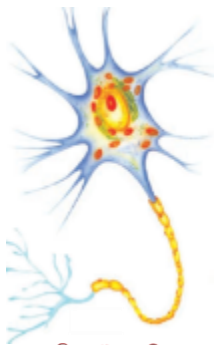
.....

.....

در تصویر زیر آنهایی را که بی‌مهره هستند رنگ بزن!



نام هر یک از سلول‌های زیر و وظیفه هر یک را بنویس.



اجزای هر محلول را جدا کن و بنویس!



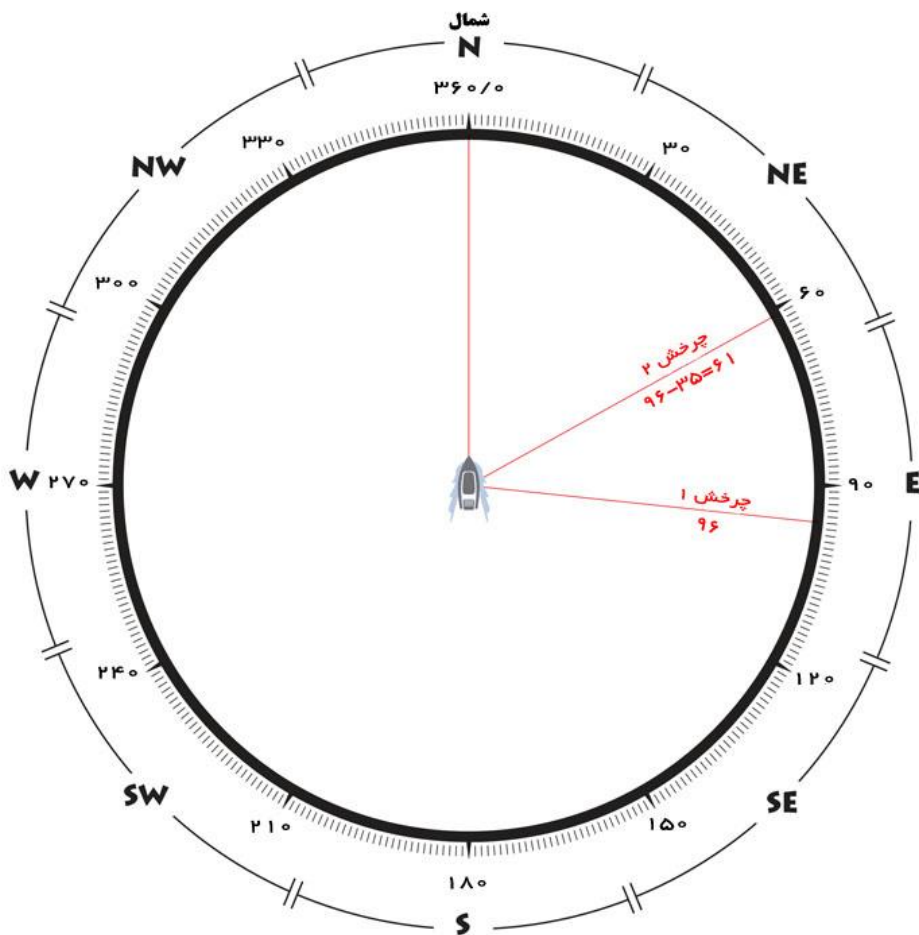
..... جای شیرین:

..... شربت آلبالو:



کار با فرمان کشتی نیاز به آشنایی با زاویه و تمرین و دقت زیادی دارد. به ناخدا کمک کنید تا مسیر جدید کشتی را پس از هر بار چرخش پیدا کند.
 اگر درجه چرخش علامت (+) داشت در جهت عقربه‌های ساعت و اگر علامت (-) داشت در خلاف جهت عقربه مسیر جدید را پیدا کن.

-۷۱	+۱۸	+۱۰۸	-۸۲	+۱۵۲	-۵۴	-۳۵	+۹۶	درجه چرخش
						۶۱	۹۶	درجه جدید



❏ کشتی پس از آخرین مرحله چرخش در چه جهتی قرار می‌گیرد؟



حضرت مهدی (عج) امام دوازدهم ما و فرزند امام حسن عسکری (ع) می‌باشد. نام مادر ایشان نرجس است. حضرت مهدی (عج) در پانزدهم شعبان سال ۲۵۵ هـ ق در شهر سامرا به دنیا آمد. نام مبارک امام دوازدهم ما (محمد) و لقب ایشان (امام زمان - ولی عصر - مهدی - ابوصالح - قائم و حجت) است. ایشان به خاطر دشمنی حاکمان عباسی، از نظرها پنهان شدند (غیبت صغرا : غیبتی که در آن زمان کوتاه بود) و فقط با چند نفر از یاران خود دیدار می‌کردند. بعد به امر خدا از نظرها پنهان شدند و (غیبت کبری: غیبتی که زمان آن طولانی بود) آغاز شد و تا زمان ما ادامه دارد.

کدام یک از موارد زیر مربوط به دوره‌ی پس از آمدن امام زمان (عج) است.

دوستی دوستی آرامش صلح خیانت

خطاکاری بت پرستی عدالت ستمگری

لقب‌های امام زمان را در جاهای خالی بنویس.

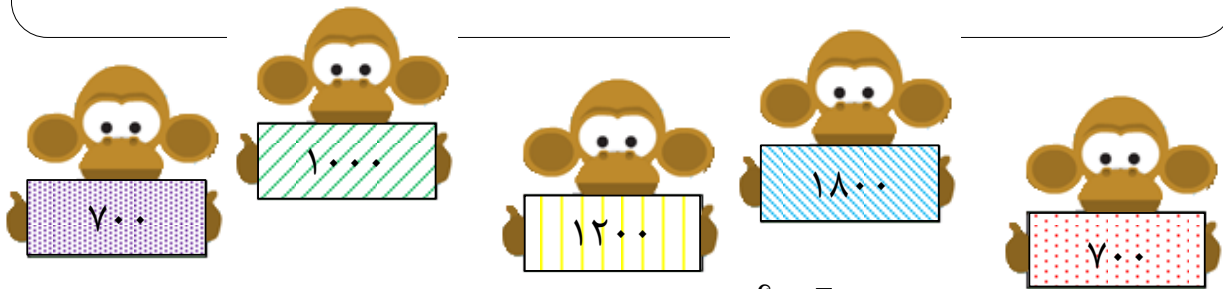


متن زیر را کامل کن!



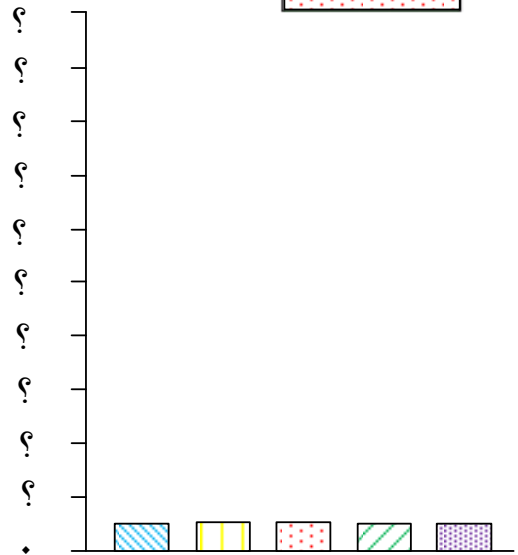
در این دنیا که این همه جنگ و ظلم فراوان است همه در انتظار

هر موجود زنده روزانه مقداری آب می نوشد. مقدار آبی که هر یک از میمون های زیر می نوشند درون تابلوی مخصوص خودشان نوشته شده است.



بهترین عددی که برای فاصله ی بین عددهای روی محورانتخاب می کنید کدام است؟

- ۵
- ۱۰۰
- ۱
- ۲
- ۲۰۰
- ۵۰



نمودار ستونی را کامل کن.

ماهگیری مقدار صید خود را در صبح و عصر به صورت زیر نوشته است.

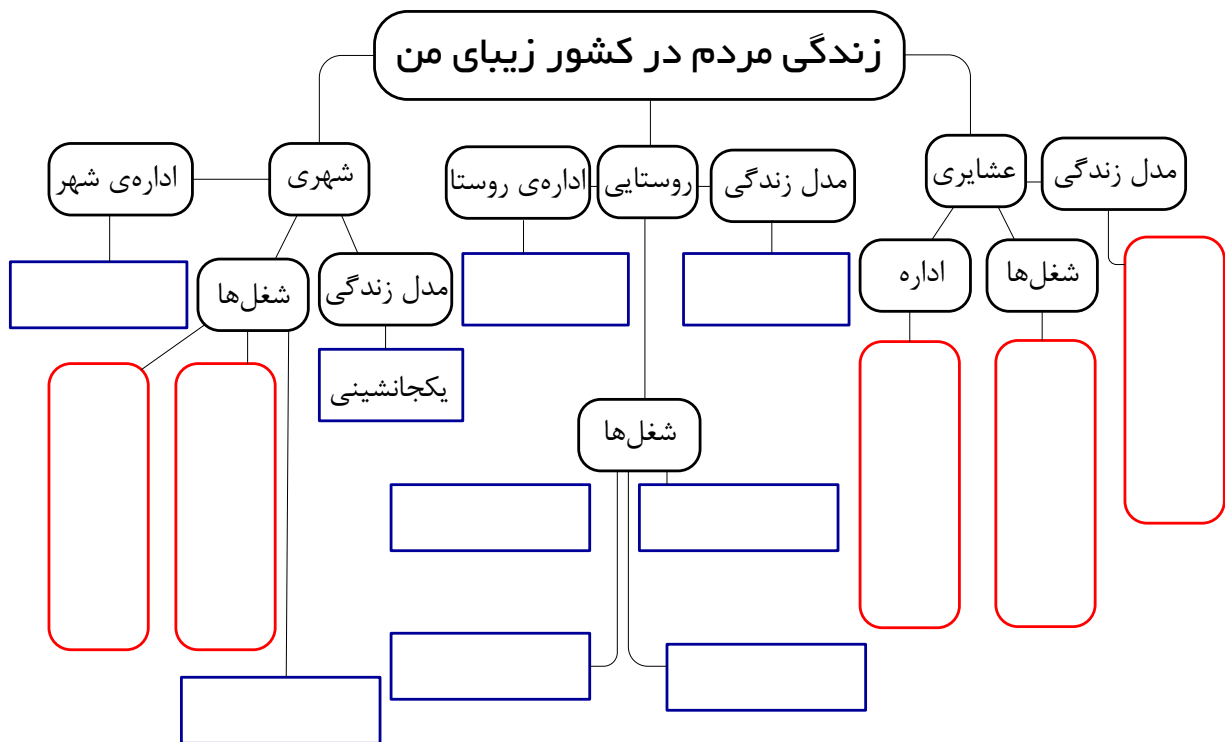
صبح	$\frac{2}{16}$ ماهی سرخو	$\frac{3}{16}$ ماهی شیر	$\frac{1}{16}$ ماهی سنگسر	$\frac{2}{16}$ ماهی هامور
عصر	$\frac{4}{16}$ ماهی هامور	$\frac{3}{16}$ ماهی سرخو	$\frac{1}{16}$ ماهی سنگسر	

چه کسری از ماهی ها سرخو است؟

چه کسری از ماهی ها هامور است؟

بیشترین صید مربوط به کدام ماهی است؟

کمترین صید مربوط به کدام ماهی است؟



در نمودار مفهومی بالا چه شباهت‌ها و تفاوت‌هایی بین زندگی شهری و روستایی مشاهده می‌کنی؟ آنها را بنویس.

	شباهت‌ها
	تفاوت‌ها

روزی مرد کوری روی پله‌های ساختمانی نشسته و کلاه و تابلویی را در کنار پایش قرار داده بود. روی تابلو نوشته بود: من کور هستم لطفا کمک کنید. روزنامه نگار خلاق از کنار او میگذشت نگاهی به او انداخت فقط چند سکه در داخل کلاه بود. او چند سکه داخل کلاه انداخت و بدون اینکه از مرد کور اجازه بگیرد تابلوی او را برداشت آن را برگرداند و اعلان دیگری روی آن نوشت و تابلو را کنار پای او گذاشت و آنجا را ترک کرد.

عصر آنروز روزنامه نگار به آن محل برگشت و متوجه شد که کلاه مرد کور پر از سکه و اسکناس شده است. مرد کور از صدای قدمهای او، خبرنگار را شناخت و خواست اگر او همان کسی است که آن تابلو را نوشته بگوید، که بر روی آن چه نوشته است؟ روزنامه نگار جواب داد: چیز خاص و مهمی نبود، من فقط نوشته شما را به شکل دیگری نوشتم و لبخندی زد و به راه خود ادامه داد. مرد کور هیچوقت ندانست که او چه نوشته است، ولی روی تابلوی او نوشته شده بود:

امروز بهار است، ولی من نمیتوانم آنرا ببینم.

موفق و پیروز باشید